

Technische Universität Wien
Institut für Automatisierungs- und Regelungstechnik

SCHRIFTLICHE PRÜFUNG zur
VU Automatisierungstechnik
am 07.03.2008

Name:

Vorname(n):

Matrikelnummer:

Note:

Aufgabe	1	2	3	4	Σ
erreichbare Punkte	10	9	9	12	40
erreichte Punkte					

Bearbeitungshinweise:

- Bitte Name, Vorname und Matrikelnummer auf dem Deckblatt eintragen.
- Für jede Aufgabe eine neue Seite beginnen.
- Auf jedem Blatt den Namen, sowie die Matrikelnummer angeben.
- Begründen Sie Ihre Antworten ausführlich!

Viel Erfolg!

1. Abbildung 1 zeigt eine Operationsverstärkerschaltung, die als invertierender PID-Regler (multiplikative Form) verwendet werden kann. Beachten Sie, dass die Kapazität C_2 eine Funktion der Spannung ist, wobei gilt:

$$C_2(u_{C2}) = C_{20} + C_{21}u_{C2}^2, \quad C_{20}, C_{21} > 0. \quad (1)$$

Der Operationsverstärker sei ideal (unendliche Verstärkung, keine Input-Bias Ströme, keine Offset Spannungen). Der Eingang des Systems ist die Spannung u , der Ausgang die Spannung y .

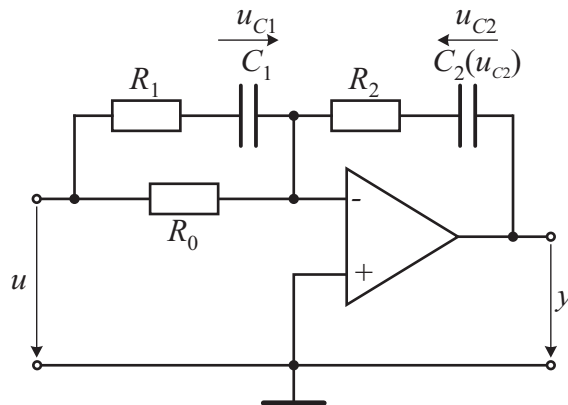


Abbildung 1: Operationsverstärkerschaltung eines invertierenden PID-Reglers.

- (a) Wählen Sie für die in Abbildung 1 dargestellte Schaltung geeignete Zustandsgrößen \mathbf{x} und bestimmen Sie das zugehörige mathematische Modell der Form

$$\dot{\mathbf{x}} = \mathbf{f}(\mathbf{x}, u) \quad (2a)$$

$$y = g(\mathbf{x}, u). \quad (2b)$$

- (b) Bestimmen Sie alle Ruhelagen des Systems für $u = 0$, linearisieren Sie das System um die Ruhelage $u = u_{C1} = u_{C2} = 0$ und schreiben Sie es in der Form

$$\dot{\mathbf{x}} = \mathbf{A}\mathbf{x} + \mathbf{b}u \quad (3a)$$

$$y = \mathbf{c}^T \mathbf{x} + du \quad (3b)$$

an.

- (c) Berechnen Sie die Übertragungsfunktion des PID-Reglers und ermitteln Sie die Beziehungen zwischen den Bauteilwerten R_0 , R_1 , R_2 , C_1 und C_{20} und den Parametern V_P , T_I , T_D und T_R der Reglerübertragungsfunktion

$$R(s) = V_P \frac{(1 + sT_D)(1 + sT_I)}{s(1 + sT_R)} \quad (4)$$

an.

- (d) Ist das linearisierte System (3) vollständig erreichbar?

2. Bearbeiten Sie die folgenden Teilaufgaben:

(a) Unter welchen drei Bedingungen ist ein System der Form

$$\dot{\mathbf{x}} = \mathbf{f}(\mathbf{x}, \mathbf{u}, t)$$

$$\mathbf{y} = \mathbf{h}(\mathbf{x}, \mathbf{u}, t)$$

linear? Wann nennt man ein lineares System zeitinvariant?

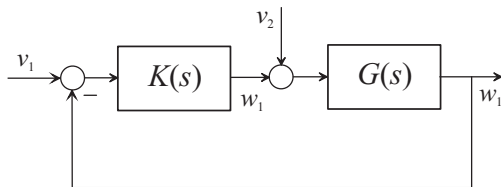


Abbildung 2: Regelkreis 1

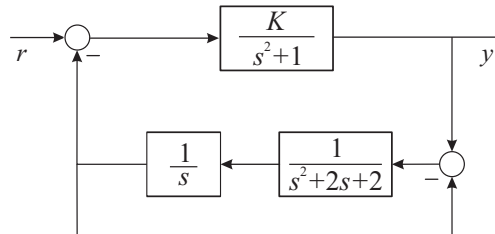


Abbildung 3: Regelkreis 2

- (b) Unter welchen Bedingungen ist der Regelkreis nach Abbildung 2 intern stabil?
- (c) Gegeben ist der Regelkreis nach Abbildung 3. Bestimmen Sie mithilfe des Verfahrens nach Routh-Hurwitz den Bereich des Parameters K , für den der geschlossene Regelkreis stabil ist. Wählen Sie als Parameter $K = -0.5$ und bestimmen Sie die bleibende Regelabweichung für das Testsignal $r(t) = \sigma(t)$.
- (d) Zeichnen Sie den Verlauf der Lösungstrajektorie $\mathbf{x}(t)$ in der (x_1, x_2) -Ebene für die Systeme

$$\dot{x}_1 = -x_2,$$

$$x_1(0) = 0$$

$$\dot{x}_2 = x_1,$$

$$x_2(0) = 1$$

und

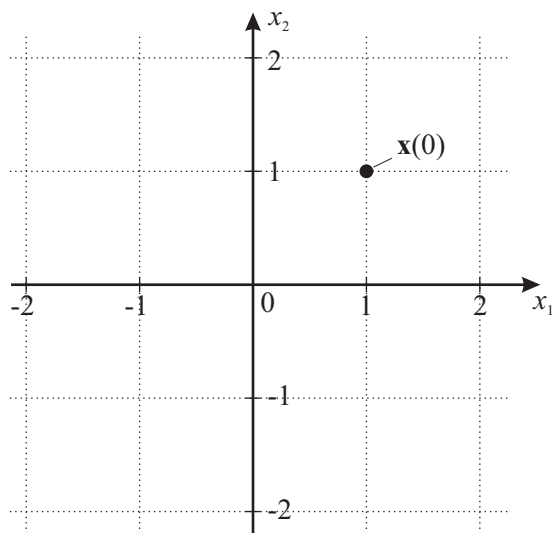
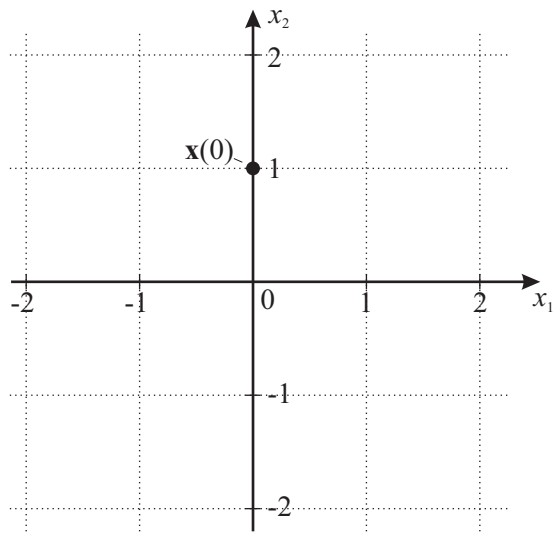
$$\dot{x}_1 = -\pi x_1,$$

$$x_1(0) = 1$$

$$\dot{x}_2 = -\pi x_2,$$

$$x_2(0) = 1.$$

Verwenden Sie dazu die beiliegende Vorlage!



3. Gegeben ist die Ausgangsfolge

$$(y_k) = \left(0, \frac{3}{2}, -\frac{1}{4}, 0, \frac{1}{4}, 0, 0, 0, 0, \dots\right)$$

eines linearen zeitinvarianten zeitdiskreten Systems auf die Eingangsfolge

$$(u_k) = (3, -2, 1, 0, 0, 0, 0, 0, 0, \dots).$$

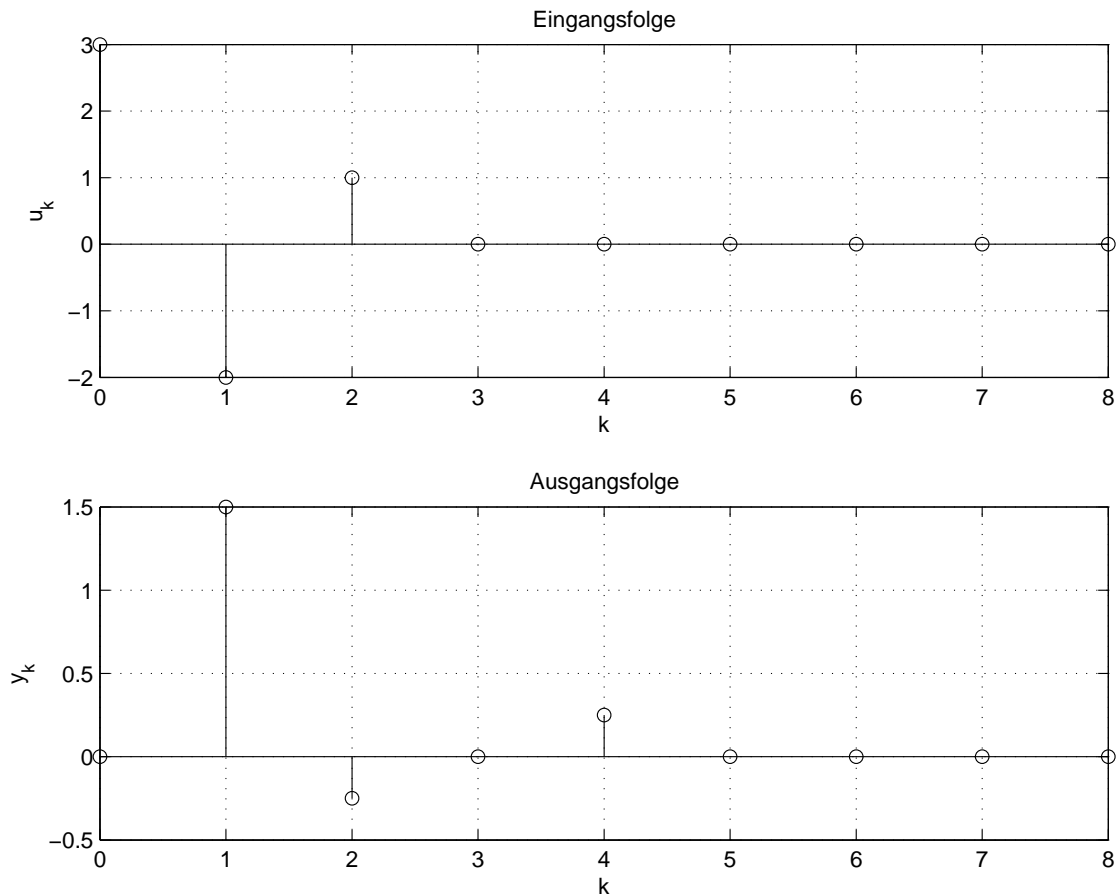


Abbildung 4: Eingangs- und Ausgangsfolge.

- (a) Welche der in Abbildung 5 dargestellten Impulsantworten gehört zu dem durch die obige Eingangs- und Ausgangsfolge charakterisierten System? Begründen Sie ihre Antwort ausführlich.

Hinweis: Nutzen Sie hier die Eigenschaft der Superposition linearer Systeme aus. Sollten Sie keine Lösung erhalten, so verwenden Sie für die weiteren Berechnungen eine beliebige Impulsantwort aus Abbildung 5.

- (b) Berechnen Sie die z -Übertragungsfunktion des Systems.
(c) Ist dieses System BIBO-stabil? Begründen Sie Ihre Antwort sowohl über die Impulsantwort als auch über die Übertragungsfunktion.

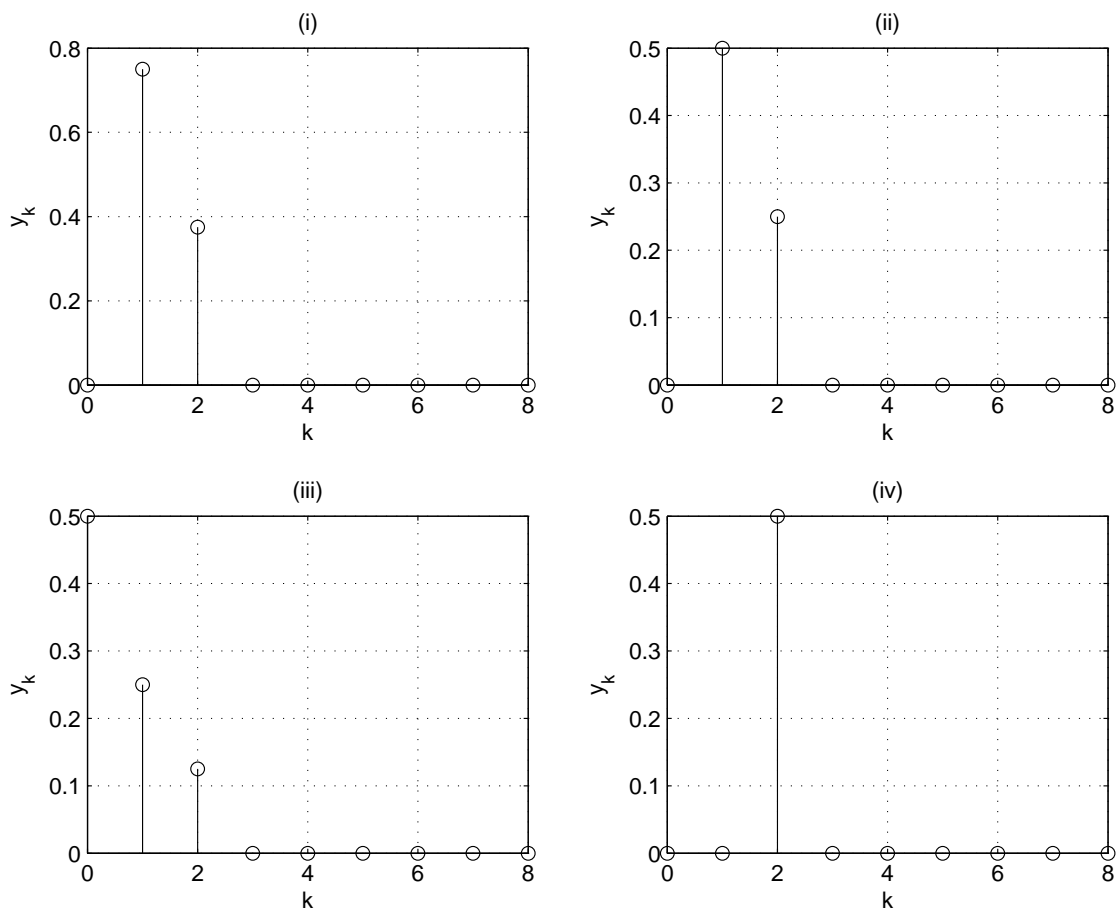


Abbildung 5: Impulsantworten.

- (d) Berechnen Sie die eingeschwungene Lösung des Systems auf eine Eingangsfolge der Form

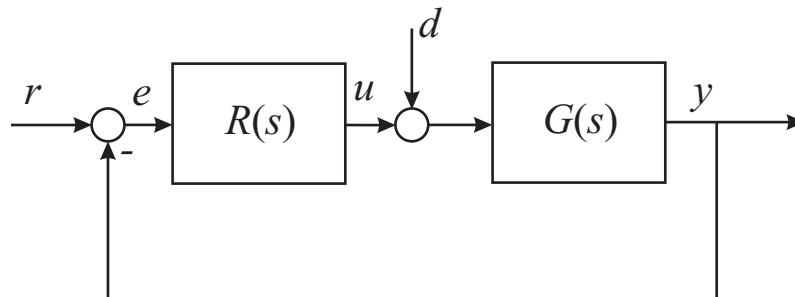
$$u_k = 2 \sin\left(k \frac{\pi}{2}\right) - 1^k.$$

- (e) Gegeben ist die s -Übertragungsfunktion $G(s)$ eines zeitkontinuierlichen Systems und die z -Übertragungsfunktion $G(z)$ des daraus durch Abtastung mit der Abtastzeit T_a gewonnenen Abtastsystems. Was können Sie über den Zusammenhang zwischen den Polstellen der s - und z -Übertragungsfunktion des abgetasteten Systems aussagen? Was können Sie über die Nullstellen der Übertragungsfunktion des abgetasteten Systems aussagen?

4. Gegeben ist die Streckenübertragungsfunktion

$$G(s) = \frac{0.5}{s \left(\frac{s}{2} + 1 \right)} .$$

- Was versteht man unter einer phasenminimalen Übertragungsfunktion? Ist die obige Übertragungsfunktion phasenminimal?
- Zeichnen Sie das Bode-Diagramm der Streckenübertragungsfunktion. Verwenden Sie hierzu die beiliegende Vorlage.
- Reglerentwurf:



- Führen Sie den Reglerentwurf für

$$R(s) = V_R \frac{1 + \frac{s}{2}}{1 + sT_R}$$

mit Hilfe des Frequenzkennlinienverfahrens für folgende Anforderungen durch:
Anstiegszeit $t_r = 1\text{s}$, prozentuales Überschwingen $\ddot{u} = 10\%$.

- Wie lautet das Nyquist-Kriterium in Frequenzkennliniendarstellung? Können Sie mit diesem Kriterium die Stabilität des hier vorliegenden geschlossenen Regelkreises nachweisen? Begründen Sie Ihre Antwort.
- Füllen Sie nachfolgende Tabelle aus und zeichnen Sie die Nyquist-Ortskurve des offenen Regelkreises.

ω	$\text{Re}(L(I\omega))$	$\text{Im}(L(I\omega))$
-0		
+0		
1		
$\sqrt{3}$		
$-\infty$		
∞		

- Überprüfen Sie anhand der Nyquist-Ortskurve die Stabilität des geschlossenen Regelkreises.
- Wie groß ist die bleibende Regelabweichung e_∞ für eine sprungförmige Störung $d(t) = \sigma(t)$?

Bode Diagram

